

## Examen

1. Una niña tiene 4 años, si su mamá tiene 21 años más. ¿Qué edad tiene su mamá?

- A) 26      B) 4      C) 21      D) 25      E) 24

2. Tenemos:



Sumar los números que están en los pies de la niña.

- A) 6      B) 5      C) 7      D) 8      E) 2

3. De la figura:

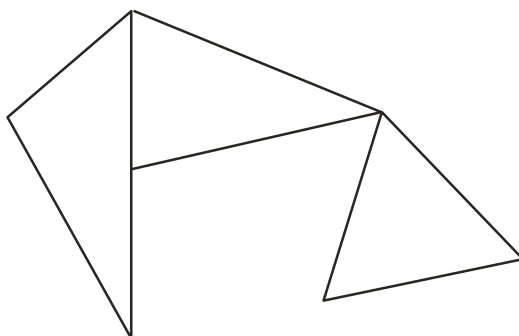


¿Cuántas patas se pueden contar?

- A) 10      B) 12      C) 14      D) 18      E) 20



4. Contar el número de triángulos.



- A) 2      B) 4      C) 5      D) 3      E) 1

5. Hallar la suma:



$$2 + 4 + 1$$

- A) 3      B) 4      C) 5      D) 6      E) 7

6. ¿Cuántos años tiene un niño que nació en el 2006?

- A) 5      B) 4      C) 6      D) 8      E) 1

7. ¿Cuántas llantas se pueden contar en las siguientes figura?



- A) 12      B) 8      C) 9      D) 10      E) 11

8. En una caja hay 2 caramelos de limón y 3 de menta. ¿Cuántos caramelos hay en 2 cajas?


- A) 10      B) 8      C) 12      D) 11      E) 15

9. Un salón tiene 18 alumnos. ¿Cuántos alumnos hay en 2 salones?

- A) 18      B) 34      C) 32      D) 36      E) 40



10. ¿Cuántos animales hay en la figura?



- A) 1                      B) 5                      C) 2                      D) 3                      E) 4

11. Si aumento 2 unidades a un número resulta 2 unidades menos que 8. ¿Cuál es el número?

- A) 1                      B) 8                      C) 6                      D) 4                      E) 2

12. Si cruzsaquito duerme todos los días a las 7:00 pm. y se despierta a la 7:00 am. ¿Cuántas horas duerme?

- A) 12                      B) 7                      C) 8                      D) 10                      E) 9

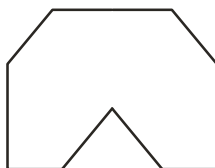
13. Un cuaderno tiene 100 hojas ¿Cuántas páginas hay en total?

- A) 100                      B) 120                      C) 150                      D) 180                      E) 200

14. Si un gato pesa 3 Kg., un perro pesa 8 Kg. ¿cuánto pesarán los 2 juntos?

- A) 12 Kg.                      B) 18 Kg.                      C) 15 Kg.                      D) 11 Kg.                      E) 20 Kg.


15. ¿Cuántos lados tiene la figura?



- A) 8                      B) 7                      C) 9                      D) 10                      E) 13



16. ¿Cuántas personas hay en la figura?



- A) 2                      B) 1                      C) 3                      D) 4                      E) 5

17. Una niña tiene 2 billetes de 10 soles y 5 monedas de 5 soles ¿Cuánto de dinero tiene?

- A) S/.35                      B) S/.45                      C) S/.55                      D) S/.65                      E) S/.75

18. Una persona trabaja 8 horas en 1 día, si su entrada es a las 10:00 a.m. ¿A qué hora será su salida?

- A) 5:00 p.m.                      B) 7:00 p.m.                      C) 6:00 p.m.                      D) 9:00 p.m.                      E) 8:00 p.m.

19. Si tengo 2 pares de zapatos de color blanco y 1 par de zapatos de color negro. ¿Cuántos zapatos tengo en total?

- A) 8                      B) 6                      C) 7                      D) 4                      E) 5

20. Una persona tiene 8 años y su hermano 13 años ¿Cuánto sumaban sus edades el año pasado?

- A) 19                      B) 21                      C) 20                      D) 23                      E) 25